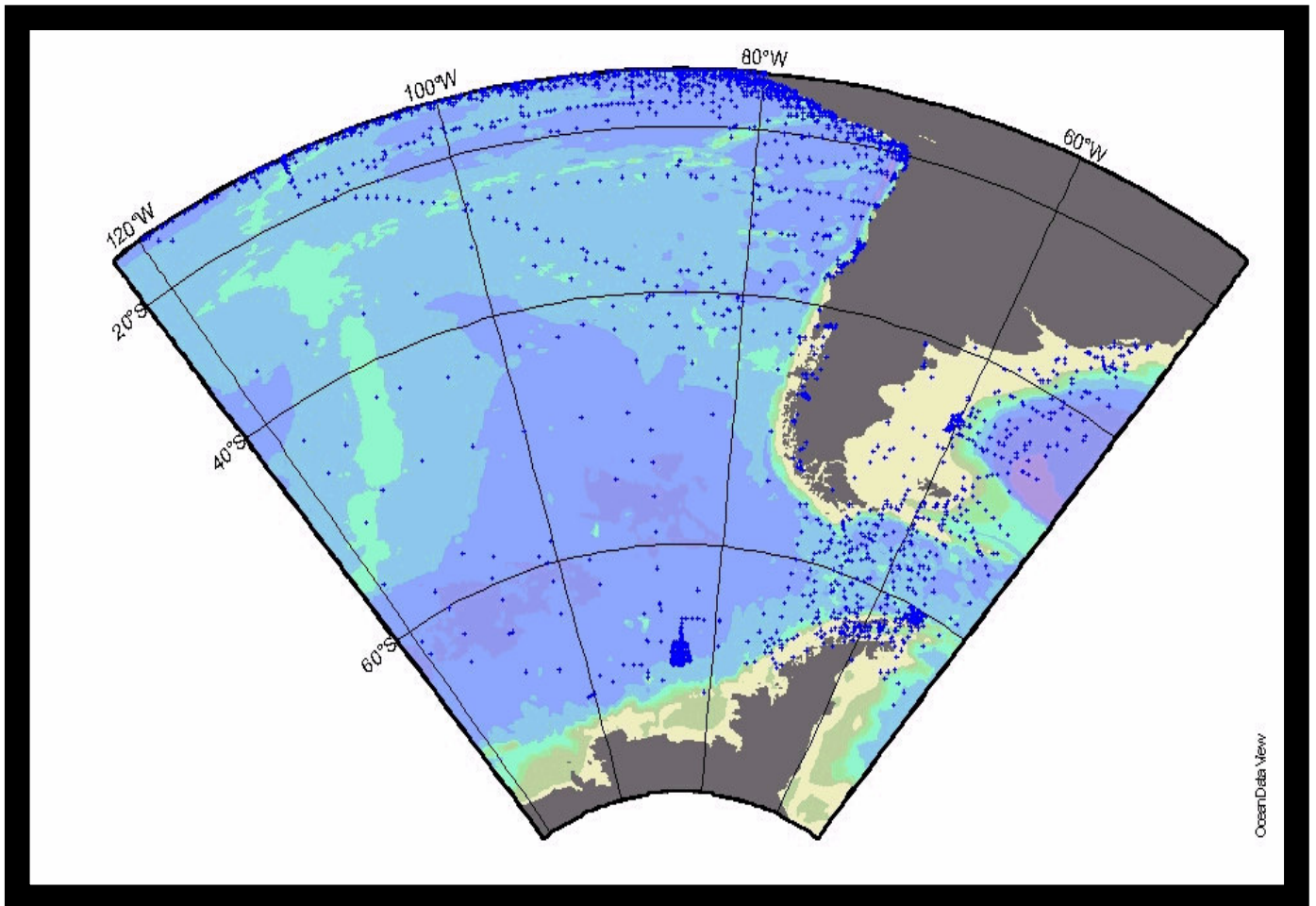


Material N°003
Módulo de Aprendizaje N°01

SÍNTESIS GEOGRÁFICA DE CHILE



I. SITUACIÓN RELATIVA DE CHILE.

1. Observe el Mapa y responda las preguntas a continuación:



a) Identificar la ubicación geográfica de Chile con respecto al Océano Pacífico.

b)Cuál es la importancia de la Isla de Pascua para Chile en la Cuenca del Pacífico.

2. En el mapa anterior las letras **A**, **B** y **C** indican las áreas correspondientes a la llamada "Tricontinentalidad". Defina brevemente dicho concepto:

3. ¿Qué consecuencias geopolíticas y económicas trae para Chile el concepto de la Tricontinentalidad?

4. En relación a los principales centros económicos y de población del mundo : ¿cuál es la situación relativa de Chile? , ¿qué consecuencias genera esta situación para el país?.

4. **Documento:**

“Exceptuando Filipinas, Chile era la más remota de las posesiones españolas. Cuando en marzo de 1796, una flotilla hizo su entrada en la bahía de Talcahuano, al sur de Chile, tras un viaje de noventa y cinco días desde Cádiz, se consideró que esta travesía había sido excepcionalmente rápida. Antes de que se empezara a usar la ruta del Cabo de Hornos, en la década de 1740, el viaje era mucho más largo (vía Panamá o Buenos Aires). Por otra parte, el aislamiento de Chile no sólo era cuestión de distancia desde la metrópoli imperial. Incluso dentro de América del Sur, la “larga y angosta faja de tierra” estaba aislada : separada del Virreinato del Perú al norte por cientos de kilómetros de inhóspito desierto, y de las pampas del río de la Plata al este por la imponente cordillera de Los Andes; al oeste, el más vasto de los océanos del mundo representaba una temible extensión que no debía ser navegada intrépidamente, sino circundada con prudencia”.

Simón Collier, “Historia de Chile 1808 – 1994”. Cambridge University Press Madrid, 1999.

En base al texto responda las siguientes preguntas:

a) ¿En relación a que aspectos se compara a Chile con las islas Filipinas?

b) Aparte de la distancia, ¿qué factores, según el autor, provocaban el aislamiento de Chile dentro del mundo de la época descrita?

c) ¿Es posible decir que las limitaciones de lejanía y aislamiento de Chile han sido totalmente superadas en el día de hoy?; ¿por qué?

5. Señale las características de la forma del territorio de Chile Continental. Mencione la superficie y las principales medidas de largo y ancho de Chile sudamericano.

II. MAR DE CHILE:

1. Destaque en el mapa adjunto la posición de los diversos espacios de mar.

2. Defina Brevemente:

a) Mar Territorial:

b) Zona Contigua:

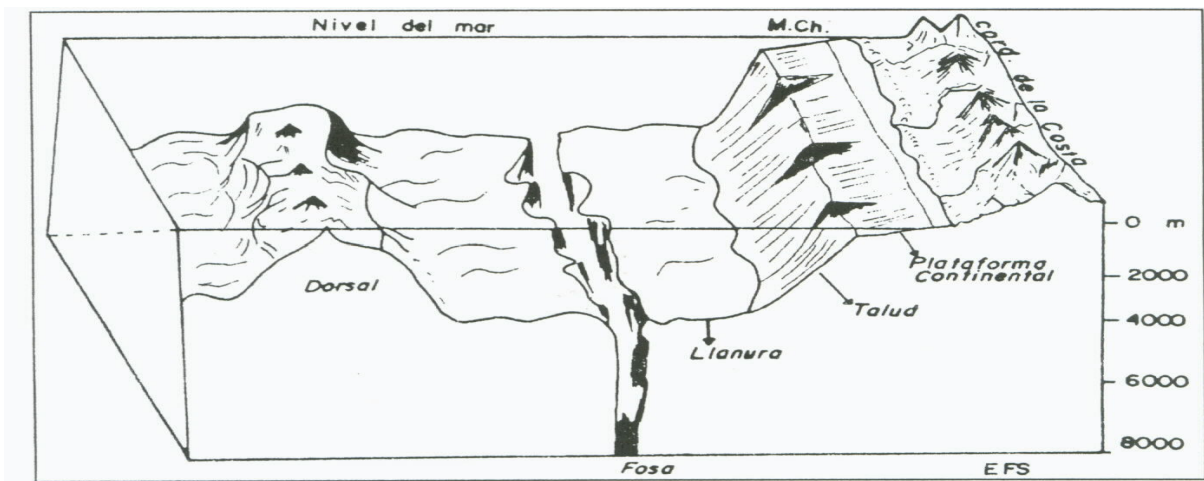


c) Mar Patrimonial:

3. Explique brevemente el concepto de "Mar Presencial"

4. Comente en qué aspectos es importante el mar para Chile:

5. Formas del Relieve Submarino.



a) De acuerdo al dibujo anterior, identifique con la letra respectiva y defina brevemente:

_____ Talud:

_____ Cuenca o Llanura:

_____ Plataforma:

b) Defina y señale las consecuencias geofísicas derivadas de la existencia de:

Las Dorsales: _____

La Fosa de Atacama: _____

6. Fenómenos del Mar. Indique con el número respectivo al fenómeno descrito en las siguientes afirmaciones: **1. Humboldt 2. La Niña 3. El Niño 4. Marea Roja**

- | | |
|-------------------------------------------------------------------------------|--------------------------------------------------------------------------------|
| a _____ Es una corriente superficial. | i _____ Posee gran riqueza de plancton y peces. |
| b _____ Se origina en el movimiento de aguas sub antárticas. | j _____ Contamina a los moluscos y puede envenenar al hombre. |
| c _____ Es frío, irregular y aperiódico. | k _____ Es una corriente fría. |
| d _____ Sus aguas son cálidas y salinas. | l _____ Su presencia se asocia a las sequías. |
| e _____ Posee salinidad adecuada y abundancia de oxígeno. | m _____ Altera el clima produciendo lluvias inusuales. |
| f _____ Su aparición es un desastre ecológico y económico. | n _____ Se caracteriza por tener surgencias. |
| g _____ Tiene 100 millas de ancho. | o _____ Constituye un enfriamiento excesivo y aperiódico de las aguas del mar. |
| h _____ Consiste en un aumento exagerado de los dinoflagelados (Fitoplancton) | p _____ Indirectamente puede tener consecuencias fatales para el ser humano. |

III. RELIEVE CONTINENTAL.

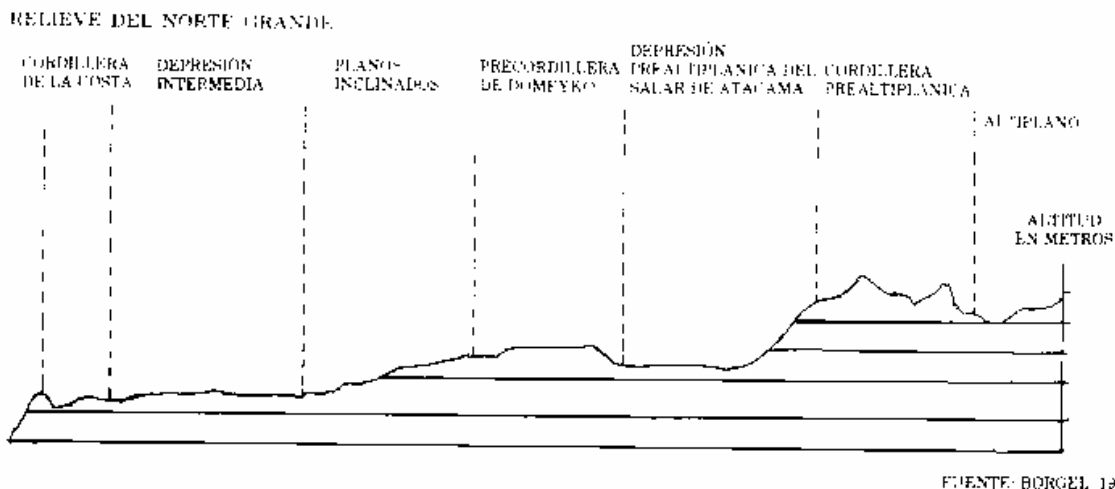
1. Sintetice brevemente los principales aspectos de cada una de las macroformas del relieve chileno.

Macroforma	Extensión	Características Morfológicas	Importancia
Cordillera de los Andes			
Depresión Intermedia			

Cordillera de la Costa			
Planicies Litorales			
Transpaís Andino			

2. Reconozca y caracterice las principales estructuras del relieve de las grandes Regiones Naturales del país:

A) Norte Grande:



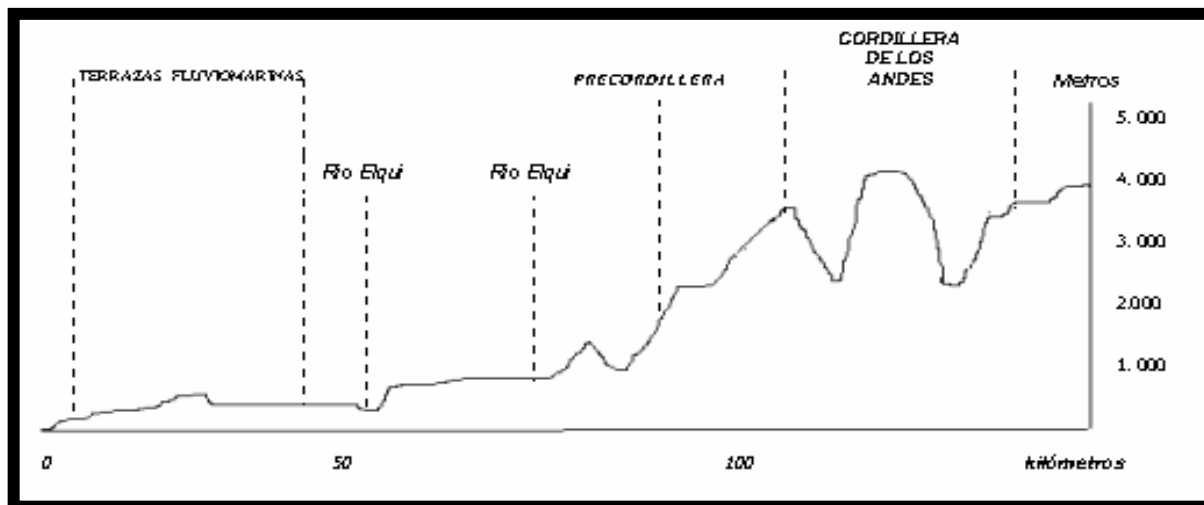
a. _____ : _____

b. _____ : _____

c. _____ : _____

d. _____ : _____

B) Norte Chico:



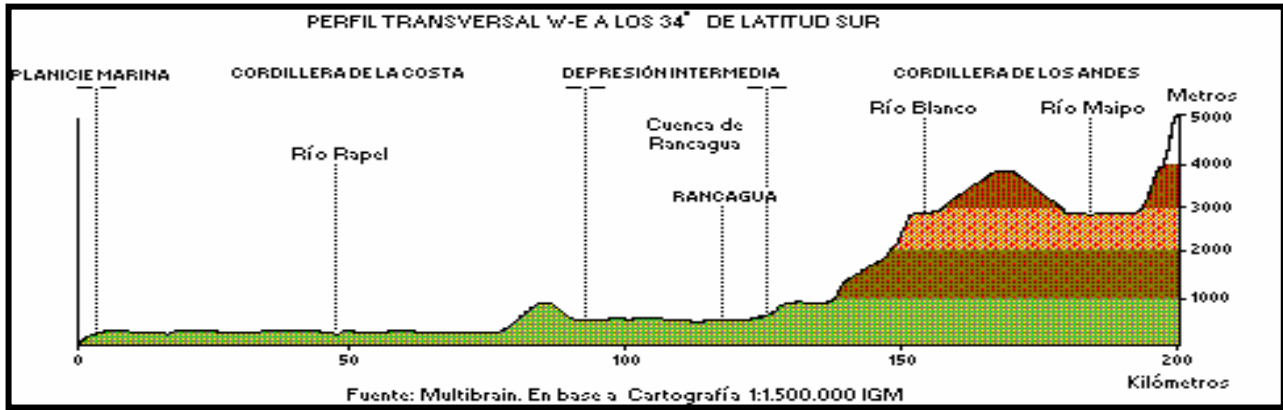
- a. _____ : _____

- b. _____ : _____

- c. _____ : _____

- d. _____ : _____

C) Zona Central:



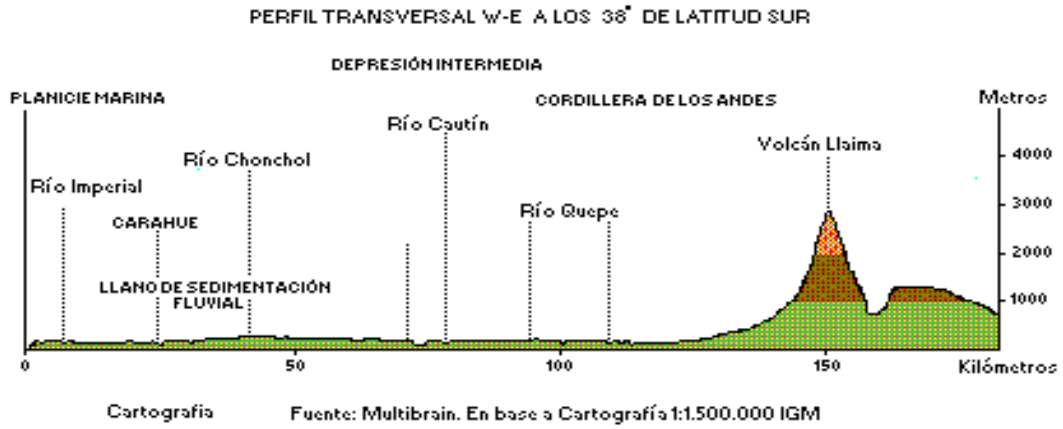
a. _____ :

b. _____ :

c. _____ :

d. _____ :

D) Zona Sur:



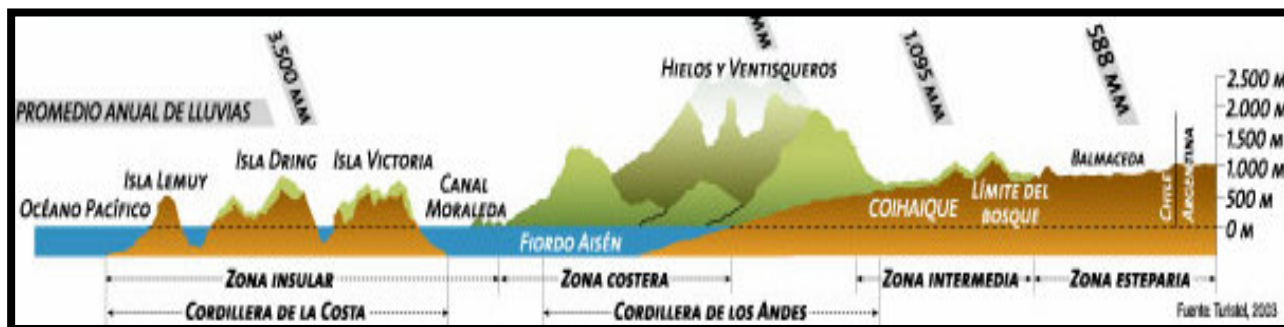
- a. _____ : _____

- b. _____ : _____

- c. _____ : _____

- d. _____ : _____

E) Zona Austral:



a. _____ : _____

b. _____ : _____

c. _____ : _____

IV. CLIMAS DE CHILE.

1. Caracterice brevemente cada uno de los factores que determinan la variedad de climas del país. Explique las principales consecuencias que estos factores traen en el comportamiento de los climas de Chile:

a) Latitud: _____

b) Relieve: _____

c) Anticiclón del Pacífico: _____

d) Influencia Oceánica: _____

e) Frente Polar: _____

2. Complete las siguientes oraciones:

- a) La interacción del _____ y del llamado _____ permiten explicar la ocurrencia de precipitaciones en la Zona Central y en el Norte Chico durante el período invernal.
- b) En Chile, a medida que avanzamos hacia el sur las temperaturas medias _____ y las precipitaciones, en general, tienden a _____.
- c) El hecho de que se produzcan ambientes climáticos distintos al _____ y al _____ de los cordones montañosos, nos muestra la acción de _____ de nuestras cordilleras.
- d) En el altiplano nortino llueve en la época _____, mientras que en Chile Central lo hace en el período _____ y en el extremo sur las precipitaciones se distribuyen durante _____.
- e) La variedad climática de Chile es principalmente a causa de _____.
- f) La vegetación de los climas áridos se denomina _____; mientras que la capaz de soportar altos niveles de humedad se llama _____.
- g) _____ es el nombre que se le da a la neblina matinal costera en el Norte de Chile; su presencia se debe sobre todo a la existencia de _____.
- h) El clima Templado Mediterráneo con estación seca prolongada se localiza entre los ríos : _____ y _____.
- i) En la Zona Central la vegetación es de carácter _____, con especies tales como _____, _____, _____, etc.
- j) En la llamada "Selva Valdiviana" se destacan árboles autóctonos de gran tamaño como : _____, _____, _____ y _____.
- k) Coirones y calafates se encuentran en el clima _____ ubicado en la vertiente _____ de la cordillera _____ de la zona austral.
- l) Las precipitaciones son abundantes y la oscilación térmica es menor en los climas _____ y _____.

V. HIDROLOGÍA CONTINENTAL

1. Complete el siguiente cuadro resumen definiendo brevemente los siguientes conceptos. Relacione y/o ejemplifique con los ríos de Chile.

Concepto	Definición	Hidrología de Chile
Hoya Hidrográfica		Mayor hoya hidrográfica del país :
Gasto o Caudal		Caudal del río Loa : Máximo caudal del País :

Estiaje		En Chile ocurre generalmente en :
Régimen Pluvial		Ríos de este tipo de régimen son : Ubicados en las regiones naturales de :
Régimen Mixto		Característicos de : Ejemplos son :
Área Endorreica		Ubicada en :
Área Arreica		Fundamentalmente corresponde a :
Área Exorreica		Ubicada desde : Hasta :

VI. LA POBLACIÓN CHILENA

1. Distribución:

a) Señale si las siguientes proposiciones son Verdaderas o Falsas y fundamente su respuesta:

- a. ____ La población chilena se distribuye homogéneamente en el territorio.

- b. ____ La distribución de la población resulta adecuada para los objetivos del desarrollo nacional.

- c. ____ Las mayores densidades demográficas se localizan en la Zona Central.

- d. ____ Aprox. 2/3 del territorio constituyen áreas de Anecúmene.

- e. ____ Los extremos del territorio se encuentran insuficientemente poblados.

- f. ____ El Norte Chico y la Zona Sur podrían ser calificadas como de alto poblamiento

b) Indique algunas de las principales causas de esta distribución:

c) Evalúe la conveniencia o inconveniencia de esta distribución para nuestro país:

2. Crecimiento Demográfico: Caracterice las etapas del crecimiento poblacional en Chile:

Fase I: _____

Fase II: _____

Fase III: _____

Fase IV: _____

3. ¿Qué factores han influido en el comportamiento de los siguientes fenómenos?

Natalidad	Mortalidad General	Mortalidad Infantil
_____	_____	_____
_____	_____	_____
_____	_____	_____
_____	_____	_____
_____	_____	_____
_____	_____	_____
_____	_____	_____
_____	_____	_____
_____	_____	_____
_____	_____	_____

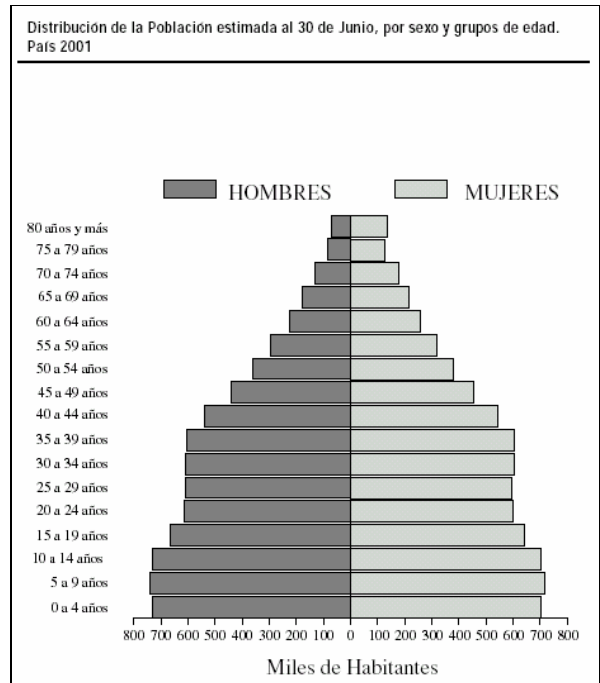
4. Estructura de la Población por edad y sexo:

En relación a la **pirámide de población**, responda las siguientes preguntas:

- a) ¿Qué sexo predomina en los grupos etáreos?
 Joven: _____
 Adulto: _____
 Anciano: _____

- b) ¿A nivel general, qué grupo etáreo predomina?,
 ¿Cómo se puede deducir a partir de la pirámide?

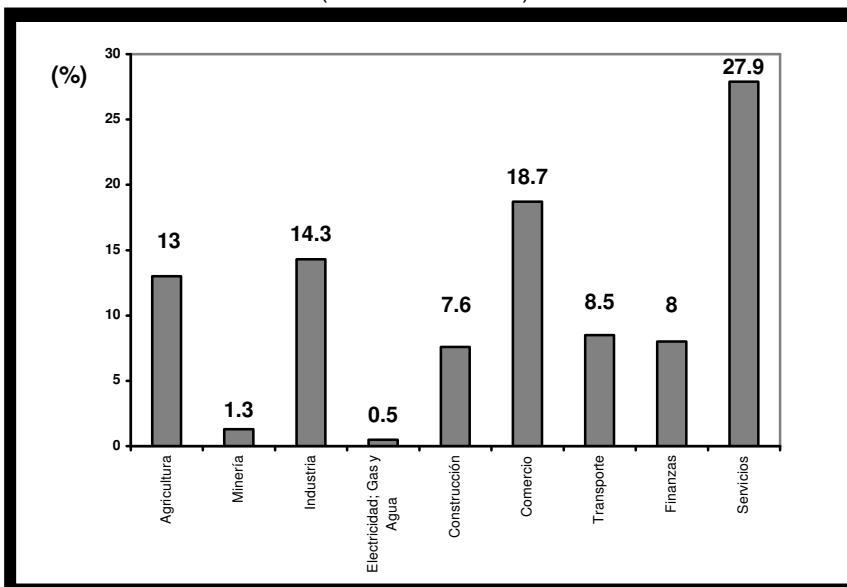
- c) De acuerdo a la forma de la pirámide y los grupos que representa, ¿cómo podría catalogarse la "Relación de Dependencia"?:



5. La Población según actividad económica.

- a. Con la ayuda de la guía de materia y del gráfico adjunto, señale el porcentaje de PEA que corresponde a cada sector e indique las actividades más relevantes de cada uno :

Composición de la PEA según Rama de Actividad Económica
 (estimación 2003)



% PEA	Actividades
Sector I _____	_____
Sector II _____	_____
Sector III _____	_____

b. Señale qué aspectos positivos y negativos se derivan de esta estructura:

VII. Población urbana y rural:

a. Seleccione las alternativas que mejor describan la realidad urbano-rural de nuestro país:

1. Para ser considerado urbano un lugar
 - a) Debe cumplir con ciertos requisitos de número y concentración de población, infraestructura y servicios, y predominio de ciertas actividades económicas.
 - b) Debe superar los 5.000 habitantes.

2. Comparando lugares urbanos y rurales, el predominio de actividades económicas sería, respectivamente
 - a) Secundarias y terciarias - primarias
 - b) Primarias - secundarias

3. En Chile el Nivel de Urbanización
 - a) Es inferior al de Ruralidad
 - b) Supera el 85%

4. En Chile, durante el último medio siglo el Nivel de Urbanización:
 - a) Ha experimentado un fuerte aumento
 - b) Se ha mantenido estacionario

5. Además del Crecimiento Vegetativo, el aumento de la población en las grandes ciudades se explica por
 - a) Los grandes movimientos migratorios campo-ciudad producidos durante el siglo XX
 - b) La formación de conurbaciones como Santiago-San Bernardo, Valparaíso-Viña del Mar o Concepción-Talcahuano.

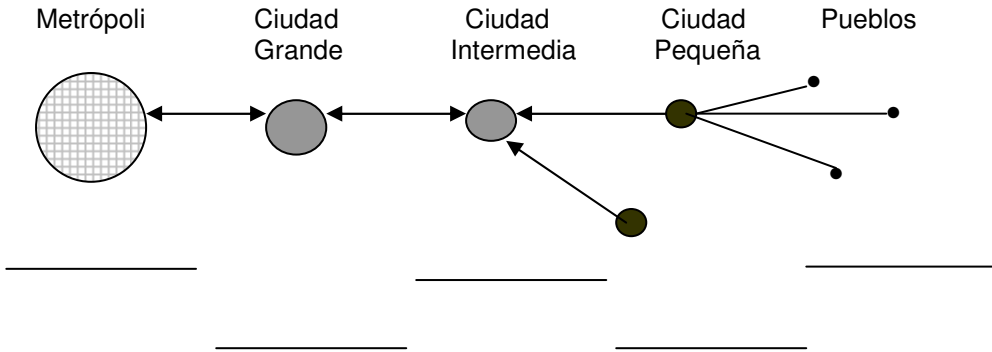
b. Indique con una X si las siguientes son características del mundo rural o urbano.

- a. Gran concentración de la población.
- b. Predominio de actividades agropecuarias
- c. Mayor heterogeneidad social
- d. Presencia de comercio y servicios.
- e. Mayor nivel de industrialización.
- f. Población dispersa.
- g. Mayor dependencia del medio natural.
- h. Marginalidad social.
- i. Residencia junto al trabajo.

Urbano	Rural

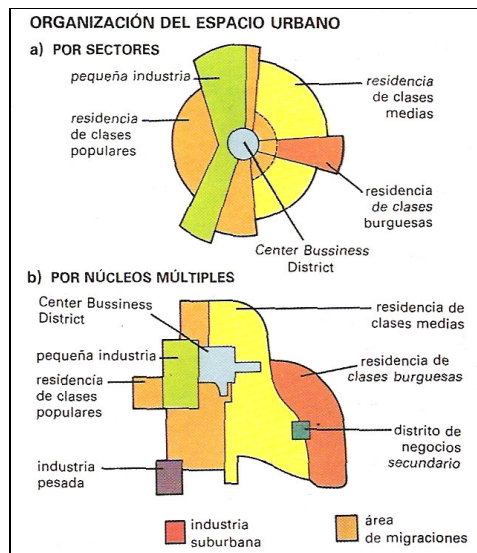
c. Las Ciudades:

De acuerdo a la región donde usted habita, complete el siguiente esquema de jerarquía urbana indicando los nombres de los centro urbanos respectivos.



d. Reconozca, caracterice brevemente y señale ejemplos de los siguientes Modelos Planos Urbanos:

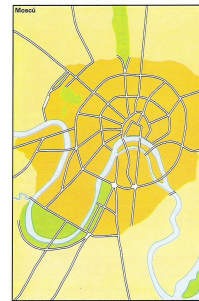
a) Plano



b) Plano

c) Plano





d) Plano

e. A su juicio, cuáles son los principales beneficios y problemas, reales y potenciales, de la vida Urbana:

f. Pobreza e Indigencia:

- a) Se entiende por indigente a aquella persona que _____, que en dinero de 2003 alcanzaba a \$ _____ en las zonas urbanas y a \$ _____ en las rurales, y en cuya condición se encuentra un _____ % de la población chilena.
- b) El pobre indigente, es aquella persona que alcanzando a cubrir el valor de la canasta alimentaria, no _____, existiendo un _____ % de la población en dicha condición.

Situación de Pobreza a nivel de personas. según región (%)

Región	Indigente	Pobre no indigente	Total Pobre	No Pobre	Total
I	3,2	15,3	18,5	81,5	100,0
II	3,2	8,0	11,2	88,8	100,0
III	8,1	16,8	24,9	75,2	100,0
IV	5,3	16,3	21,5	78,5	100,0
V	4,7	14,8	19,4	80,6	100,0
VI	4,0	15,3	19,2	80,8	100,0
VII	5,6	17,5	23,1	76,9	100,0
VIII	8,4	19,6	28,0	72,0	100,0
IX	9,5	20,2	29,7	70,3	100,0
X	4,8	17,0	21,8	78,2	100,0
XI	4,2	10,0	14,2	85,8	100,0
XII	2,5	9,8	12,3	87,7	100,0
RM	2,9	10,2	13,1	86,9	100,0
Total	4,7	14,0	18,7	81,3	100,0

Fuente: MIDEPLAN, División Social, encuesta CASEN 2003 con factores de expansión en base a CENSO 2002

VIII. Regionalización

1. Señale en síntesis los objetivos de la Regionalización:

2. Defina los siguientes conceptos

a) Región:

b) Provincia:

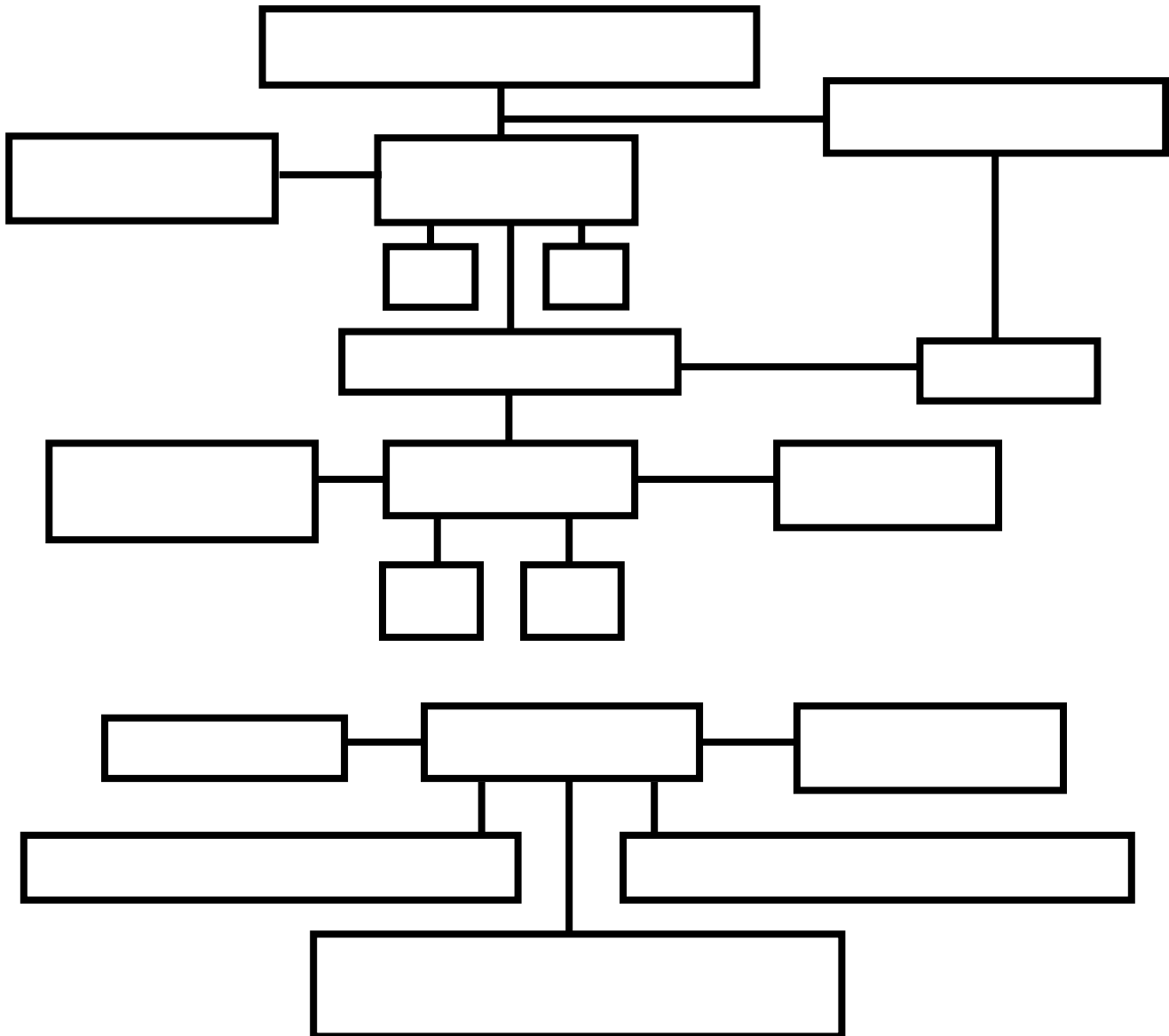
c) Comuna:

3. Averigüe sobre las principales autoridades administrativas del país y complete el siguiente cuadro:

Nivel de Administración	Autoridad Máxima	¿Elección/ Designación?
Nacional		
Regional		
Provincial		
Comunal		

4. Estructura Político Administrativa.

Complete el esquema con los organismos y autoridades que corresponda.



3. Señale con una cruz a qué región natural corresponde cada uno de los siguientes relieves o características morfológicas (Algunas corresponden a más de una Zona)

Norte Grande	Norte Chico	Zona Central	Zona Sur	Zona Austral
--------------	-------------	--------------	----------	--------------

1. Presencia del Altiplano.				
2. Observatorios astronómicos en sus cerros				
3. Cordillera erosionada: fiordos, islas, canales y estrechos.				
4. Gran belleza escénica: bosques, lagos, volcanes.				
5. Notables alturas volcánicas: Tupungato, Nevados de Chillán.				
6. Bosque Relicto de Fray Jorge.				
7. Presencia de Campos de Hielo.				
8. Cordillera afectada por el Invierno Boliviano.				
9. Grandes embalses de uso agrícola				
10. Presencia del Farellón Costero.				
11. Se inicia la cordillera de Nahuelbuta.				
12. Presencia de la Meseta Patagónica.				
13. Sector Mediterráneo con grandes densidades de población.				
14. Cordilleras de Piuchén y Pirulil.				
15. Presencia de Geysers y Salares.				
16. Valles Transversales.				
17. Cuencas Morfotectónicas : Santiago; Rancagua.				
18. Mayores alturas de la Cordillera de la Costa.				
19. Máximo poblamiento al oriente de Los Andes.				
20. Finaliza la Cordillera de la Costa.				
21. Ríos Endorreicos.				
22. Desierto de Atacama.				
23. Presencia del llano fluvio-glacio-volcánico.				
24. Lagos trasandinos de origen glacial.				

4. Respecto de las siguientes afirmaciones sobre la población chilena, señale con una V si son verdaderas o con una F si son falsas. Fundamente sus respuestas.

- a) ____ Chile es un país mestizo en el cual el aporte europeo ha sido poco importante.

- b) ____ La población chilena se distribuye uniformemente sobre el territorio.

- c) ____ Las menores densidades demográficas se encuentran en las regiones extremas.

- d) ____ El crecimiento natural resulta de la diferencia de la natalidad y la mortalidad.

- e) ____ El período de mayor crecimiento de la población correspondió a 1960 – 1980.

- f) ____ En la actualidad el crecimiento de la población chilena es notoriamente bajo.

- g) ____ En Chile es mayoritario el grupo de la población joven.

- h) ____ La planificación familiar y la masificación de los anticonceptivos han sido fundamentales en la disminución de la tasa de natalidad.

- i) ____ La población extranjera es un porcentaje importante en Chile.

- j) ____ En la actualidad, la migración a Santiago alcanza sus mayores niveles históricos.

- k) ____ En Chile, al igual que en la mayoría de los países, nacen más niños que niñas.

- l) ____ La P.E.A. es la población que efectivamente se encuentra trabajando.

- m) ____ En la masa laboral hombres y mujeres se encuentran igualados en número.

- n) ____ La población del sector primario se dedica a actividades extractivas.

- o) ____ El sector terciario es minoritario en cuanto al número de ocupados.

- p) ____ El volumen de población urbana es ampliamente mayoritario.

- q) ____ Los altos niveles de urbanización son nocivos para el país.

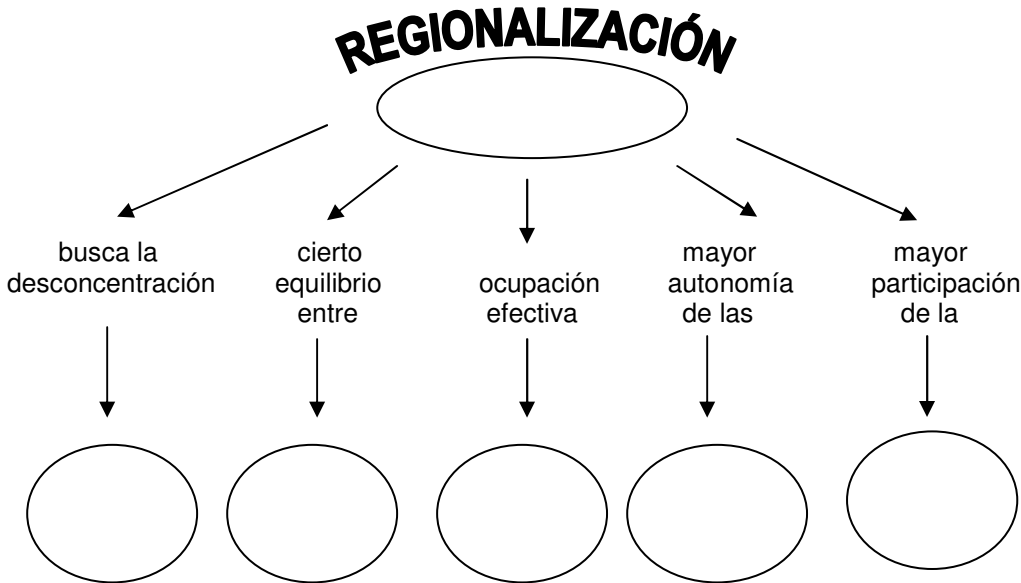
- r) ____ Indigente es aquella persona cuyos ingresos no le permiten satisfacer sus necesidades básicas mínimas.

- s) ____ Las regiones extremas, por sus características físicas y económicas, presentan los mayores porcentajes de población pobre del país.

5. Señale si las siguientes proposiciones son Verdaderas (V) o Falsas (F)

1. ____ Chile es un Estado Unitario, pero Federal.
2. ____ La administración del Estado corresponde al Presidente de la República asesorado directamente por los parlamentarios.
3. ____ Los órganos descentralizados actúan con la personalidad jurídica y el patrimonio del Estado.
4. ____ Se denomina desconcentración administrativa a la delegación de funciones desde el gobierno central hacia los órganos inferiores.
5. ____ La administración del Estado Chileno comprende cuatro niveles territoriales.
6. ____ La regionalización pretende ampliar la participación de la ciudadanía en la resolución de sus propios problemas.
7. ____ El principal objetivo de la regionalización es lograr un desarrollo socioeconómico en las regiones.
8. ____ La seguridad nacional comprende exclusivamente a las regiones de baja densidad poblacional.

6. Complete el siguiente mapa conceptual.

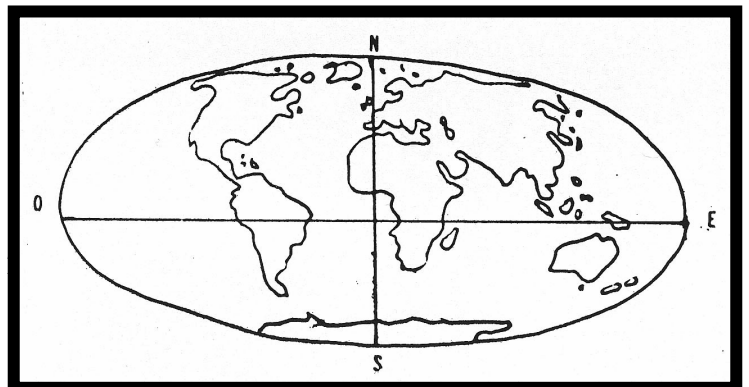


AUTOEVALUACIÓN.

1. De acuerdo al Planisferio, podemos afirmar que Chile se sitúa:

- I. Íntegramente en el Hemisferio Sur.
- II. Al Oriente del meridiano de Greenwich.
- III. En el Pacífico Sur - Oriental.

- A) Sólo I
- B) Sólo II
- C) Sólo I y III
- D) Sólo II y III
- E) I, II y III

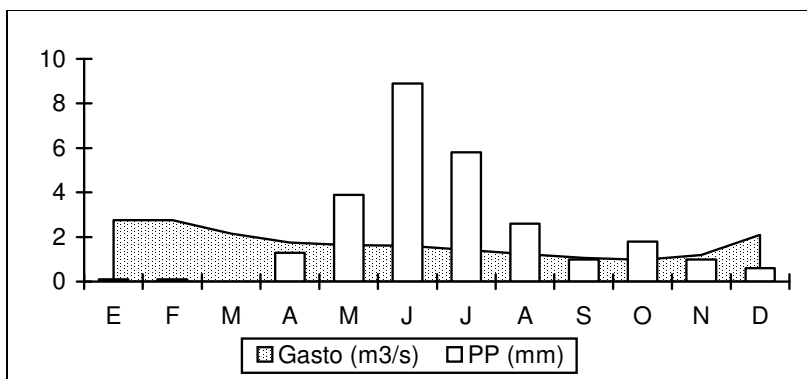


2. En la zona de 200 millas marítimas que corresponde al llamado “Mar de Chile”, se incluye.....
- I. al Mar Territorial.
 - II. a la Zona Contigua.
 - III. al Mar Presencial.
- A) Sólo I
 - B) Sólo I y II
 - C) Sólo I y III
 - D) Sólo II y III
 - E) I, II y III
3. En relación con los límites de Chile, es correcto afirmar que:
- I. De Bolivia nos separa la llamada línea de la Concordia.
 - II. Choquecota y Zapaleri son hitos Tripartitos o Trifinios.
 - III. Al Este limitamos tanto con Bolivia como con Argentina.
- A) Sólo I
 - B) Sólo III
 - C) Sólo I y II
 - D) Sólo II y III
 - E) Sólo I y III
4. En relación a la localización geográfica de Chile y su accesibilidad en las comunicaciones, ¿Cuál de las siguientes alternativas constituye una desventaja para el país?:
- A) Poseer sectores altiplánicos compartidos con Perú y Bolivia.
 - B) Su ubicación en el borde del Océano Pacífico.
 - C) Tener gran variedad de climas y paisajes naturales.
 - D) Sus fronteras naturales de grandes magnitudes.
 - E) La gran extensión de sus costas.
5. La Corriente de Humboldt es parte importante del ecosistema marino chileno. Respecto a sus características, es válido decir que:
- A) Influye en las escasas precipitaciones del Norte del país.
 - B) Aumenta notoriamente su temperatura en el Norte del país.
 - C) Su gran profundidad favorece la presencia de plancton.
 - D) Las aguas poseen altísima salinidad y baja oxigenación.
 - E) El desplazamiento tiene sentido Norte—Sur.
6. Chile posee una gran cantidad de islas, las que se clasifican en tres grupos: Antepuestas, Patagónicas y Esporádicas. Sobre estas últimas es correcto afirmar que:
- A) Se encuentran cercanas al borde continental.
 - B) Están emplazadas en la plataforma continental.
 - C) Fueron muy afectadas por las glaciaciones.
 - D) Grandes mareas casi cubren a algunas de ellas.
 - E) Geológicamente todas son de origen volcánico.
7. La importancia de la Cordillera de los Andes para Chile, en el plano físico y económico, es:
- I. Posee potencial hidroeléctrico y grandes reservas mineras.
 - II. Influye notoriamente en las precipitaciones del centro y sur del país.
 - III. Presenta importantes recursos forestales en el centro del país.
- A) Sólo I
 - B) Sólo II
 - C) Sólo I y II
 - D) Sólo II y III
 - E) I, II y III

8. En relación a los rasgos morfológicos más característicos del Chile continental es correcto señalar:
- I. La existencia de un gran llano longitudinal ubicado en las zonas centro y sur.
 - II. La presencia de cuencas morfotectónicas tanto en Santiago como en Rancagua.
 - III. La existencia de cordones y valles transversales, en el llamado norte chico.
- A) Sólo II
 - B) Sólo III
 - C) Sólo I y II
 - D) Sólo I y III
 - E) I, II y III
9. El comportamiento de los climas en Chile presenta algunas características generales que dependen de los factores geofísicos respectivos. Sobre estas características podemos reconocer como verdadero que:
- I. Las temperaturas promedio disminuyen de norte a sur.
 - II. Las oscilaciones térmicas son menores en la Depresión Intermedia.
 - III. Se presentan mayores precipitaciones en la costa que en el interior.
- A) Sólo I
 - B) Sólo II
 - C) Sólo III
 - D) Sólo I y III
 - E) Sólo II y III
10. El fenómeno meteorológico conocido popularmente como: "Invierno Boliviano" corresponde a:
- A) Precipitaciones estivales, que caen en el sector altiplánico del Norte Grande.
 - B) Lluvias invernales, caídas en el norte de Chile por efecto de bajas temperaturas.
 - C) Efectos del fenómeno de El Niño en la costa norte durante el verano.
 - D) Vientos estacionales que se muestran en el Chile Central durante el verano.
 - E) Nevadas inusuales en la alta cordillera de la I y II región del país.
11. La hidrología chilena presenta algunas particularidades, en cuanto a áreas de escurrimiento y fuente de alimentación de sus ríos. En relación a estos aspectos es correcto indicar que:
- I. La zona exorreica presenta ríos regularmente salobres y que no llegan al mar.
 - II. Tanto en el Norte Chico como en la Zona Central prevalece el régimen nivopluvial.
 - III. En toda la Zona Austral los ríos son largos y caudalosos.
- A) Sólo I
 - B) Sólo II
 - C) Sólo III
 - D) Sólo I y II
 - E) I, II y III

12. El régimen de un río corresponde a las variaciones de su caudal a lo largo del año; esto depende de su principal fuente de alimentación. Según el fluviograma del río Copiapó podemos decir que este río tiene un régimen:

- A) Nivo-pluvioso.
- B) Pluvial.
- C) Glacial.
- D) Nivoso.
- E) Pluvio-Nivoso.



13. Entre los objetivos que se propuso el proceso de regionalización se consideran:

- I. Descentralizar la población y ocupar los innumerables espacios vacíos.
- II. Permitir una mayor participación ciudadana en las decisiones de la región.
- III. Crear polos de desarrollo Industrial y aprovechar mejor los recursos.

- A) Sólo I
- B) Sólo II
- C) Sólo III
- D) Sólo I y II
- E) I, II y III

14. Entre los requisitos que se fijaron para delimitar las trece regiones del país se cuentan:

- I. Contar con puertos naturales que permitan el desarrollo económico marítimo.
- II. Especialización en una actividad económica, como forma de lograr la mayor eficiencia.
- III. Poseer una estructura urbano-rural que garantice un nivel de servicios mínimos a la población.

- A) Sólo I
- B) Sólo II
- C) Sólo III
- D) Sólo I y III
- E) Sólo II y III

15. En los cambios que presentó la tasa de natalidad en Chile durante el siglo XX influyeron numerosos y variados factores. De las siguientes alternativas, ¿cuál o cuáles han influido en dicha variación?:

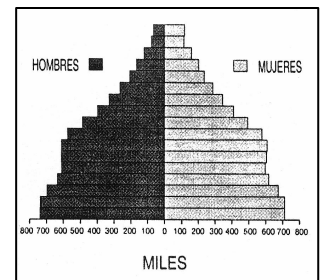
- I. La generalización del uso de anticonceptivos.
- II. El aumento de la mortalidad infantil.
- III. Las políticas de planificación familiar.

- A) Sólo I
- B) Sólo III
- C) Sólo I y III
- D) Sólo II y III
- E) I, II y III

16. En la siguiente figura, la pirámide de la población nos muestra la actual estructura de la población chilena, por edad y por sexo. De acuerdo a ella se puede afirmar que:

- I. Existe un relativo equilibrio porcentual entre los sexos.
- II. La población masculina supera ampliamente a la femenina.
- III. La población chilena es mayoritariamente joven.

- A) Sólo I
- B) Sólo III
- C) Sólo I y II
- D) Sólo I y III
- E) Sólo II y III



17. Se denomina “Esperanza de Vida” al número de años que, en promedio, pueden vivir los miembros de una generación, según las condiciones imperantes al momento de nacer. Del comportamiento de este índice en las últimas décadas en Chile es falso afirmar que:

- A) Ha aumentado, llegando en Chile a más de 75 años, según las últimas proyecciones,
- B) Ha disminuido por la incidencia de nuevas causas de muerte como el cáncer, sida, etc.
- C) En las últimas décadas ha aumentado, especialmente para las mujeres,
- D) Su comportamiento es inversamente proporcional a las tasas de mortalidad
- E) En el caso de Chile, sus índices o niveles son poco inferiores a los de países desarrollados.

18. Se llama “estructura” a la forma en que la población está compuesta según la edad, el sexo u otras características. De acuerdo a la estructura por edad se puede afirmar que en Chile:
- A) Predominan los jóvenes de 0 a 20 años.
 - B) Los ancianos (mayores de 65 años) son un tercio del total.
 - C) La población adulta es minoritaria.
 - D) La población joven está en franca disminución.
 - E) La población senil tiende a mantenerse.
19. Se llama Población Económicamente Activa (P.E.A.) a la que trabaja por una remuneración, a los cesantes y a quienes buscan trabajo por primera vez. Actualmente la P.E.A. en Chile:
- A) Labora principalmente en el sector secundario.
 - B) Constituye aprox. el 40% de la población total del país.
 - C) Se compone mayoritariamente de mujeres.
 - D) Tiende a concentrarse en la agricultura y la minería.
 - E) Disminuyó su ocupación en los servicios.
20. La Pobreza y la Marginalidad Social: “Dentro de la ciudad existen barrios donde sus habitantes viven en condiciones miserables, marginados de las ventajas que supuestamente ofrece la ciudad a todos quienes viven en ella. No cuentan con viviendas adecuadas, carecen de servicios básicos y no tiene oportunidades de educación y trabajo. Esta situación se produce por el desequilibrio entre el crecimiento de la población urbana y la existencia de medios que pueda procurar la ciudad para el desarrollo de la vida digna de sus habitantes. La marginalidad urbana disminuye al individuo en el aspecto económico, social y cultural, y lo lleva al desquiciamiento moral, que es fuente de origen de conducta antisociales”.

Manual de Geografía de Chile. Edit. A. Bello, 1987

De acuerdo al texto anterior es posible concluir que:

- I. La pobreza únicamente afecta a quienes la padecen.
 - II. La marginalidad social va más allá de la pobreza material.
 - III. Es difícil para un individuo romper el círculo de la pobreza.
- A) Sólo I
 - B) Sólo III
 - C) Sólo I y II
 - D) Sólo I y III
 - E) Sólo II y III

RESPUESTAS EJERCICIOS DE AUTOEVALUACIÓN

1. Ventajas (V) / Desventajas (D)

a	V	h	D
b	V	i	V
c	D	j	V
d	D	k	D
e	D	l	V
F	V	m	V
g	D	n	D

2. Climas

1. Desértico Normal.
2. Estepárico de Altura.
3. Estepárico Costero.
4. Mediterráneo con Est. Seca Prolongada
5. Templado Cálido Lluvioso.
6. Marítimo Lluvioso.
7. Estepárico Frío.

3. Relieves Regionales:
- | | |
|--------------|-------------------------------------|
| Norte Grande | : 1 -2 - 8 - 10 - 15 - 18 - 21 - 22 |
| Norte Chico | : 2 -6 - 9 - 16 |
| Zona Central | : 5 - 11 - 13 - 17 - 23 |
| Zona Sur | : 4 - 14 - 23 |
| Zona austral | : 3 - 4 - 7 - 12 - 19 - 20 - 24 |

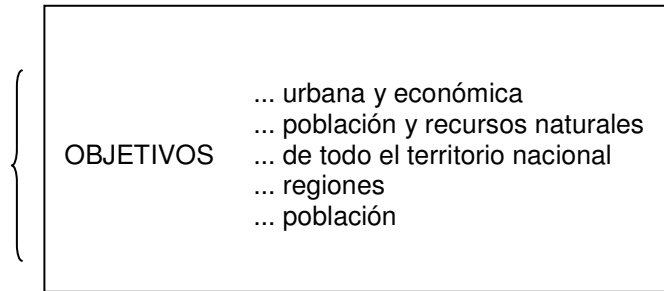
4. Población Chilena: Verdadero (V) o Falso (F)

- | | | |
|---|---|---------------------------------------------------------------------------------------|
| A | F | Aporte étnico hispánico importante; además idioma; religión; cultura; etc. |
| B | F | Concentrada en la parte central del país. |
| C | V | Valores desde 0,8 hab./km ² (Aysén) a 7,2 hab./km ² (Tarapacá). |
| D | V | Crecimiento Vegetativo = Tasa Natalidad – Tasa Mortalidad. |
| E | F | Mayor crecimiento período 1940 –1960. |
| F | F | Crecimiento moderado-bajo. |
| G | F | La población chilena es predominantemente adulta. |
| H | V | Efectos notables entre 1960 – 1980. |
| I | F | Nunca a sobrepasado el 2 % o 3 % del total de población. |
| J | F | El mayor flujo migratorio a Santiago se dio entre los años 50 y 60. |
| K | V | Coincidente con la dinámica poblacional humana. |
| L | F | Son los que trabajan, los cesantes y los que buscan trabajo por 1 ^a vez. |
| M | F | Todavía los varones constituyen la mayoría de la fuerza laboral. |
| N | V | Por definición del Sector Económico. |
| Ñ | F | Más del 50% de la fuerza de trabajo se ocupa en el sector terciario. |
| P | V | 86,6% de población urbana según Censo 2002. |
| Q | F | La urbanización no es negativa en si misma. |
| R | V | Definición por convención |
| S | F | El grueso de la población pobre se localiza en la RM, VIII y V |

5. Verdadero (V) o Falso (F)
Regionalización

1	F
2	F
3	F
4	V
5	V
6	V
7	V
8	F

6. Mapa Conceptual



CONTROL DE AUTOEVALUACIÓN

CLAVES

1. C
2. B
3. D
4. D
5. A
6. E
7. C
8. E
9. D
10. A
11. B
12. A
13. E
14. C
15. C
16. A
17. B
18. D
19. B
20. E